

Erdvinių gebėjimų skalė RVS

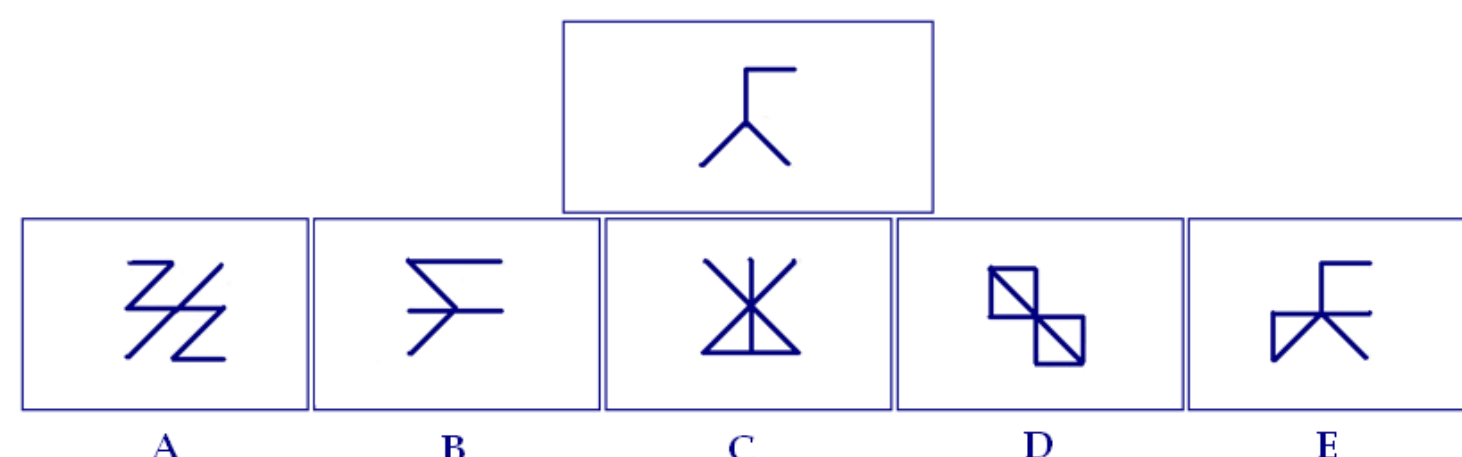
Testą RVS sudaro 48 užduotys, kurioms atlikti bus skirtos 52 minutės. Kiekvienai atskirai užduočiai atlikti skiriamos 1-2 minutės. Kai užduočiai skirtas laikas pasibaigs, pažymėtas atsakymas bus priimtas kaip jūsų pasirinktas ir jūs pamatysite sekančią užduotį.

Stenkitės atsakyti į visus klausimus kaip galima tiksliau. Atkreipkite dėmesį į tai, kad kai kuriuose klausimuose gali būti daugiau nei vienas teisingas atsakymas. Atlikdami testą galite užsirašinėti, tačiau kitokiomis pagalbiniėmis priemonėmis ar kitų asmenų pagalba naudotis draudžiama.

Testą sudaro keturių skirtingų tipų užduotys:

Pavyzdys 1.

Kuriose figūrose galima rasti pateiktą detalę?

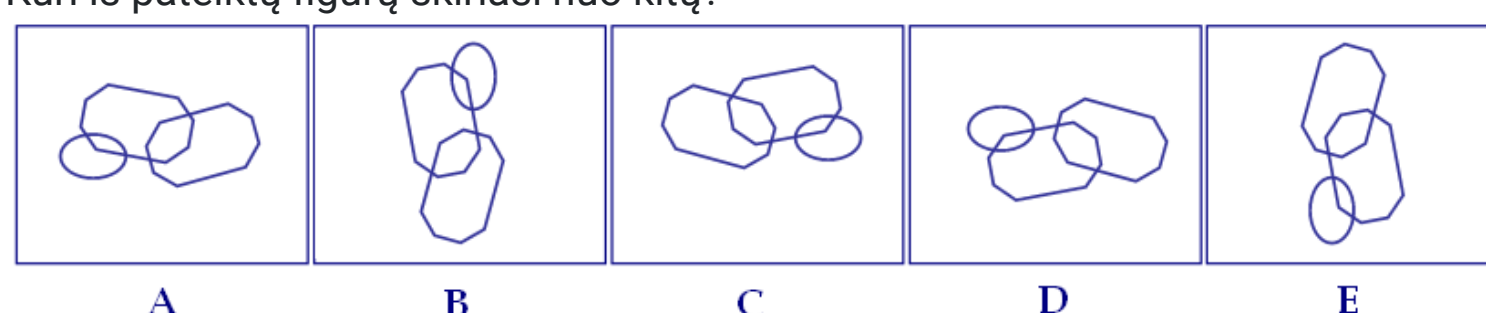


- A
- B
- C
- D
- E
- nė vienoje
- nežinau

Teisingi atsakymai yra "C" ir "E". Kad jūsų atsakymas būtų užfiksuotas, pažymėkite atsakymus "C" ir "E" varnelėmis. Neįtraukite į teisingą atsakymo variantą veidrodinio detalės atvaizdo.

Pavyzdys 2.

Kuri iš pateiktų figūrų skiriasi nuo kitų?

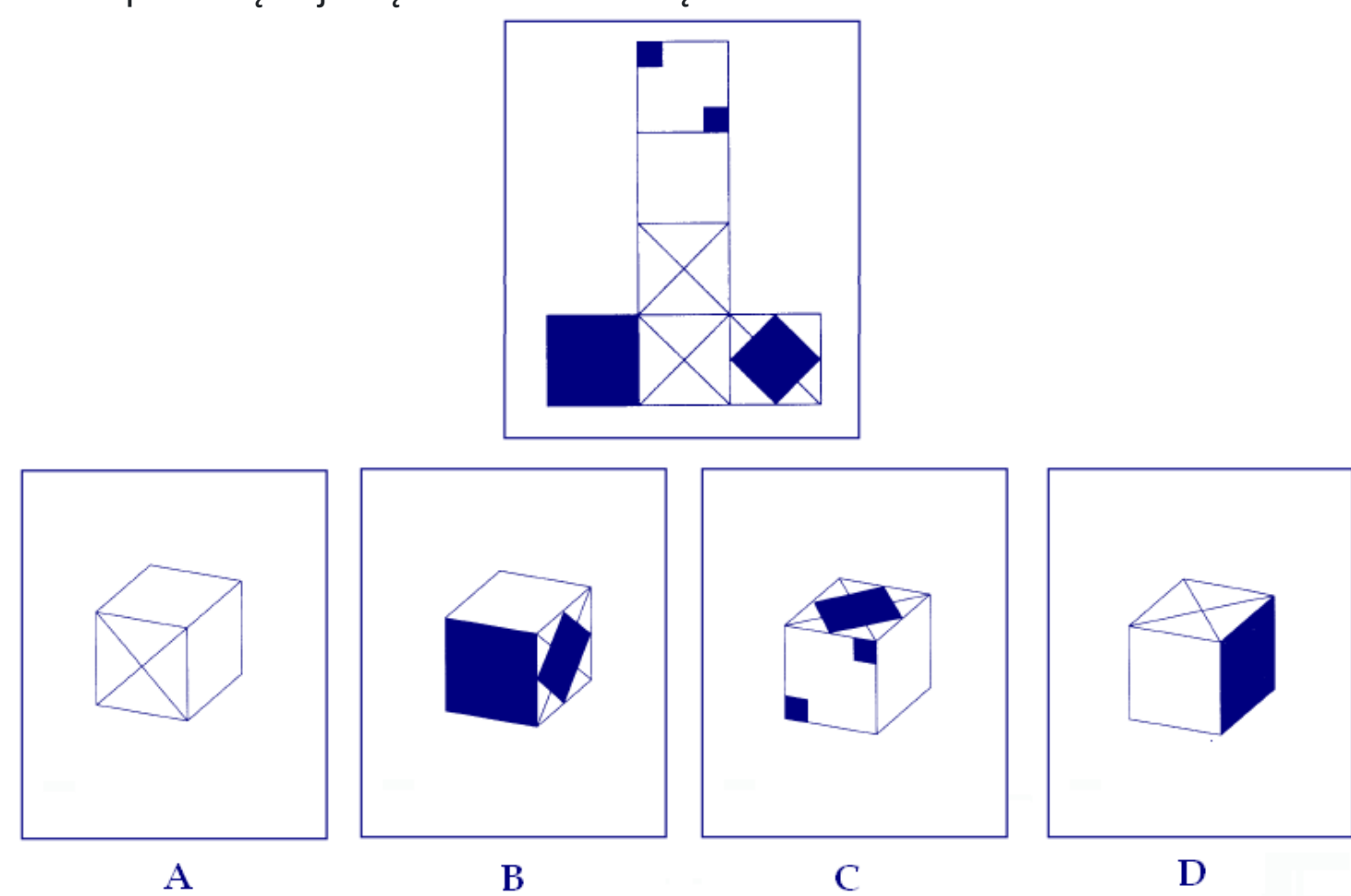


- A
- B
- C
- D
- nė viena
- nežinau

Teisingas atsakymas yra "A". Pažymėkite atsakymą "A". Neįtraukite į teisingą atsakymą veidrodinio figūros atspindžio.

Pavyzdys 3.

Kuris iš pateiktų objektų atitinka išsklotinę?

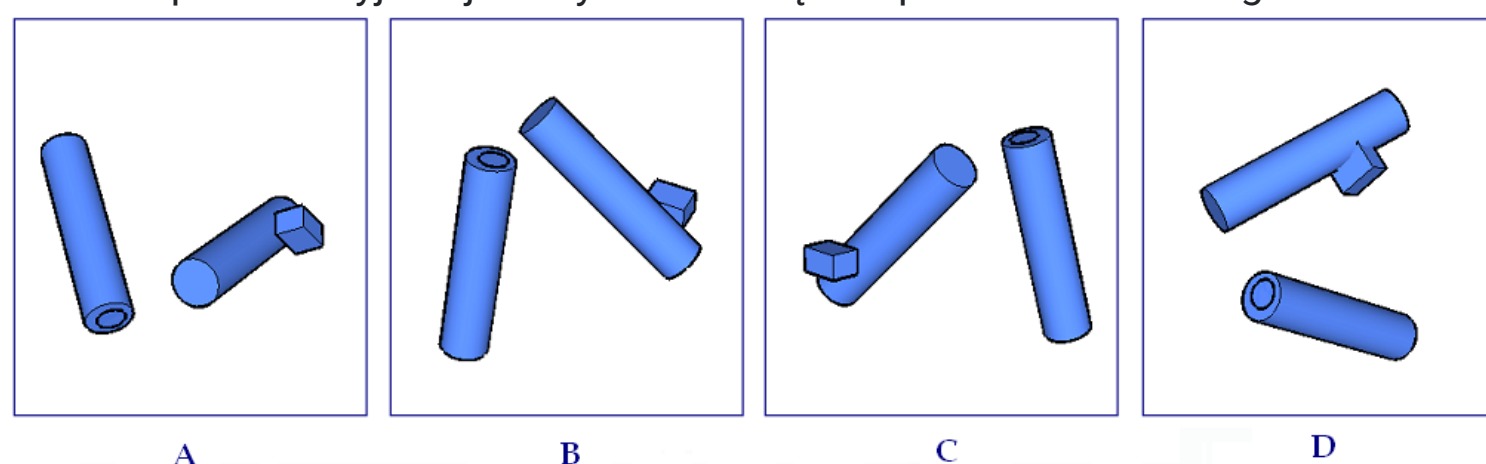


- A
- B
- C
- D
- nė viena
- nežinau

Teisingas atsakymas yra "D". Pažymėkite varnelę ties variantu "D".

Pavyzdys 4.

Kuriame paveikslėlyje objektai yra išsidėstę kitaip vienas kito atžvilgiu?



- A
- B
- C
- D
- nė viena
- nežinau

Teisingas atsakymas yra "D". Pažymėkite varnelę ties variantu "D".

Kai susipažinsite su instrukcijomis, peržiūrėsite pavyzdžius ir būsite pasirėngęs (-usi) pradėti testą, spauskite mygtuką "Pradėti!". Pamatysite pirmąją užduotį ir bus pradėtas skaičiuoti laikas. Kiekvienam klausimui atsakyti skirtą likusį laiką matysite ekrano viršuje.

Sėkmės!